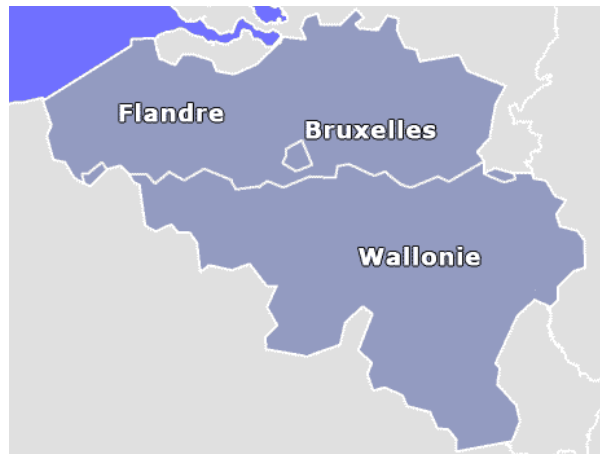


Théorie n°4



Les régions de Belgique.

Wallonie : je parle français

Flandre : je parle neerlandais

Bruxelles : les deux.

Exercices n°4

En Belgique, les habitants sont répartis dans trois Régions et appartiennent à une des trois Communautés. Quatre amis d'Emile résidant en Belgique se présentent.

MARQUE d'une croix leur Région et leur Communauté. Un exemple t'est donné.

	Région wallonne	Région flamande	Région Bruxelles-capitale	Communauté française	Communauté flamande	Communauté germanophone
Je m'appelle Antoine et j'habite Arlon.						
Je m'appelle Else et j'habite à Bruges.						
Je m'appelle Rupper et j'habite Eupen.						
Je m'appelle Sarah, je m'exprime en français et j'habite près de la Grand-Place de Bruxelles.			X	X		

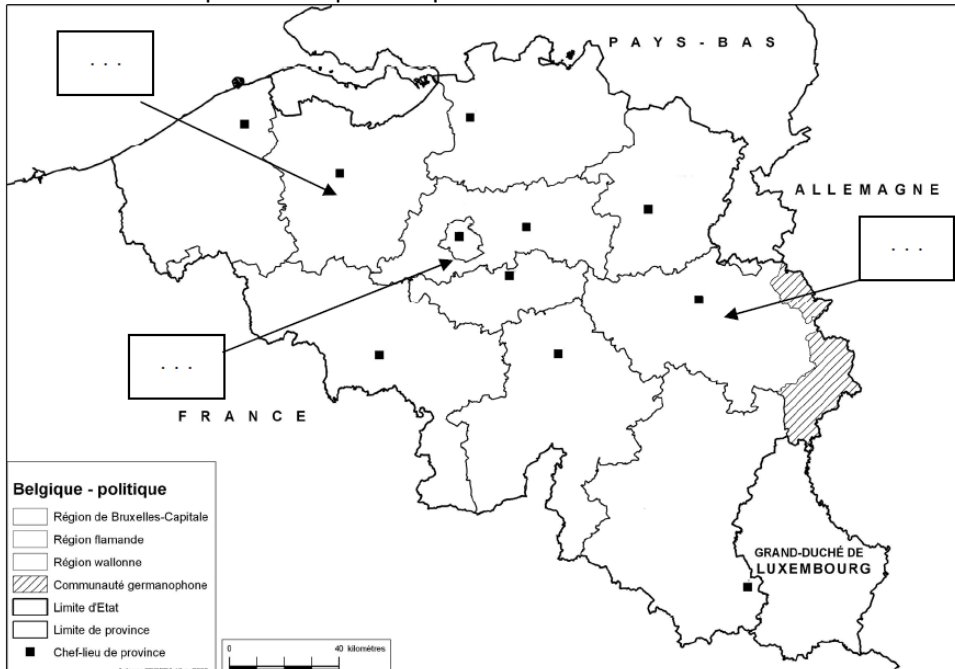
Théorie n°5

Les 10 provinces de Belgique et leur chef lieu.



Exercices n°5

Note le nom des provinces qui manque et leur chef lieu.



Nous vivons dans la province de Et son chef lieu est

Ostende est dans la province de.....

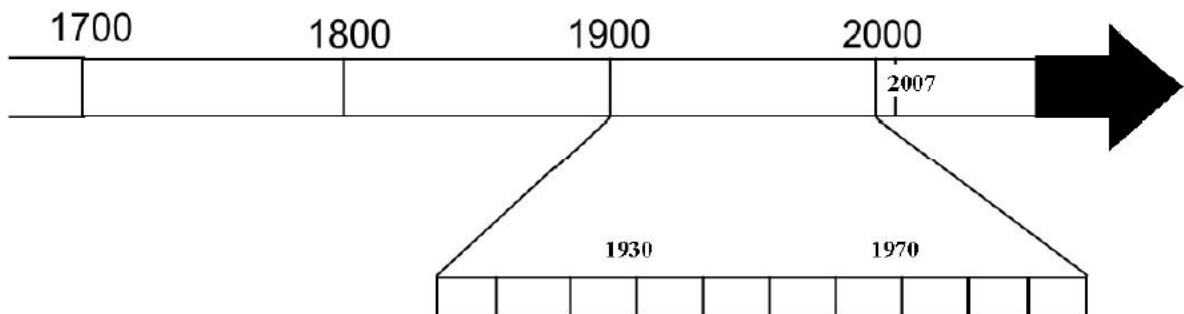
Notre capitale est dans la province de

Wavre est dans la province du.....et elle est son

Note les 2 provinces qui sont collées au Pays-Bas : et

Exercices n°6

- a) Regarde la pièce de monnaie. Il y a une date dessus. Retracer en couleur sur la ligne du temps le temps écoulé entre la fabrication de cette pièce et nous aujourd'hui.



- b) Refais l'exercice avec cette nouvelle pièce :

